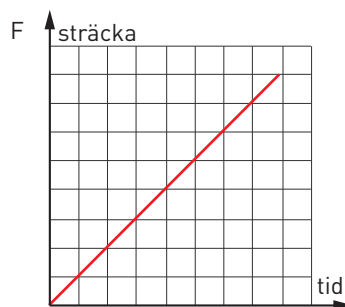
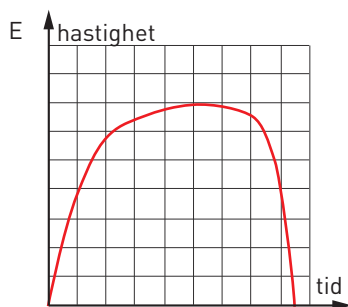
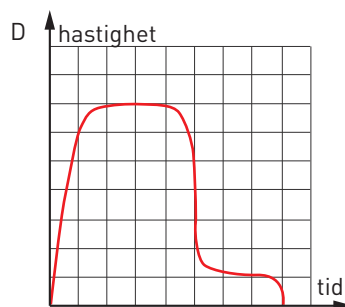
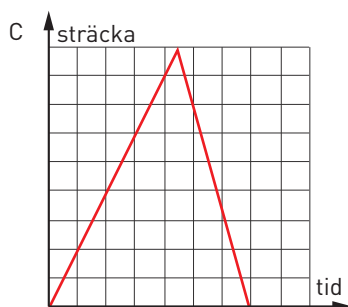
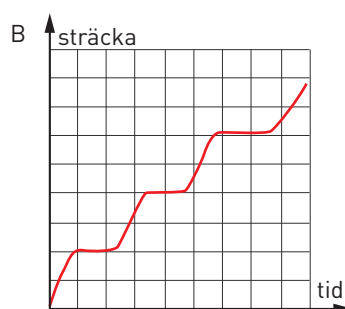
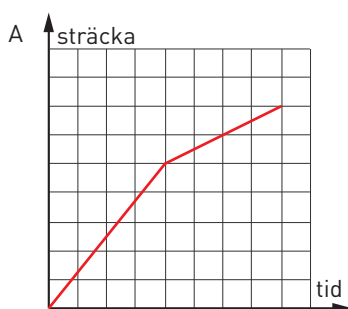


Förändring med tiden

Här finns sex händelser beskrivna. Nedanför finns sex diagram som visar de beskrivna händelserna. Din uppgift är att ”para ihop” händelserna med rätt diagram.

- 1 Jesper kör bil till jobbet på morgonen. På vägen måste han stanna tre gånger vid rött ljus.
- 2 Elin springer 60 m inomhus. Hon kommer i mål och hinner då nätt och jämnt stanna innan hon är framme vid idrottshallens vägg.
- 3 Ett tåg åker flera mil med konstant hastighet.
- 4 Oscar springer i ett motionsspår. De första kilometrarna springer han ganska fort. Sen får Oscar håll och kan därför bara jogga sista biten.
- 5 Fatima går till skolan på morgonen. Efter en stund kommer hon på att hon har glömt sin läxbok i matte. Fatima springer då tillbaka hem för att hämta läxboken.
- 6 Viktor hoppar fallskärm. Först faller han fritt i 2 000 m. Hastigheten ökar då till en början men efter en stund är hastigheten konstant. Viktor löser ut fallskärmen och faller då mycket långsammare till dess att han landar.



Förändring med tiden

FACIT

1 B

2 E

3 F

4 A

5 C

6 D