


Bråk och decimaltal

Hur stor andel är skuggad? Svara i både bråkform och decimalform.

1



$$\frac{\quad}{\quad} = \frac{\quad}{\quad}$$

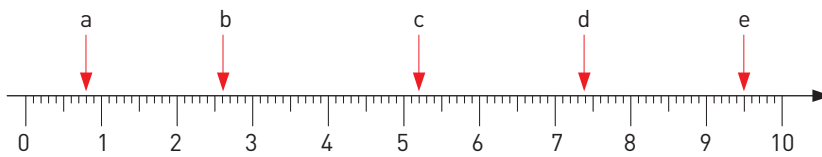
2



$$\frac{\quad}{\quad} = \frac{\quad}{\quad}$$

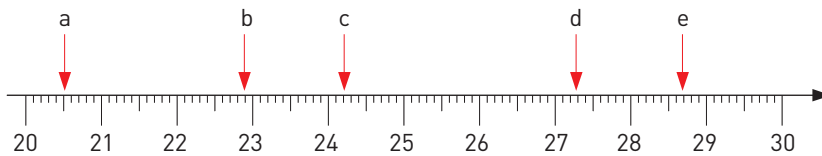
Vilka tal pekar pilarna på?

3



a) _____ b) _____ c) _____ d) _____ e) _____

4



a) _____ b) _____ c) _____ d) _____ e) _____

Skriv talen i decimalform.

5 a) sex tiondelar _____ b) femton hundradelar _____

6 a) fyra hundradelar _____ b) nio tiondelar _____

7 a) tre fjärdedelar _____ b) två femtedelar _____

8 a) fyra femtedelar _____ b) tre hundradelar _____

Bråk och decimaltal

FACIT

1 $\frac{1}{4} = 0,25$

2 $\frac{1}{5} = 0,2$

- 3 a) 0,8
b) 2,6
c) 5,2
d) 7,4
e) 9,5

- 4 a) 20,5
b) 22,9
c) 24,2
d) 27,3
e) 28,7

- 5 a) 0,6
b) 0,15

- 6 a) 0,04
b) 0,9

- 7 a) 0,75
b) 0,4

- 8 a) 0,8
b) 0,03