


Hur mycket är klockan (II)


Skriv klockslagen med siffror.

1




Förmiddag

2




Eftermiddag

3




Kväll

4




Morgon

5



Eftermiddag

6



Kväll

- 7 Halv två på eftermiddagen _____
- 8 Kvart över åtta på morgonen _____
- 9 Fem i nio på kvällen _____
- 10 Tio minuter över elva på förmiddagen _____
- 11 Kvart i tre på eftermiddagen _____
- 12 Fem minuter i halv tolv på förmiddagen _____

Hur mycket är klockan (II)

FACIT

- 1 10.50
- 2 14.15
- 3 20.25
- 4 7.45
- 5 15.30
- 6 21.20
- 7 13.30
- 8 8.15
- 9 20.55
- 10 11.10
- 11 14.45
- 12 11.25