

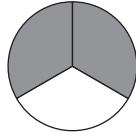
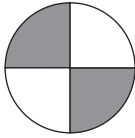
## Andel

1 Skriv talen med siffror

a) en fjärdedel = —

b) tre fjärdedelar = —

2 Hur stor andel av bilden är skuggad och hur stor andel är vit?



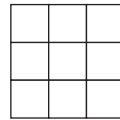
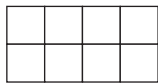
a) Skuggad: —

b) Skuggad: —

Vit: —

Vit: —

3 Skugga så stor andel som står angiven under figurerna.



a)  $\frac{1}{4}$

b)  $\frac{3}{8}$

c)  $\frac{4}{9}$

4 Vilket tal är störst?

a)  $\frac{1}{5}$  eller  $\frac{1}{4}$  Svar: —

b)  $\frac{1}{2}$  eller  $\frac{1}{3}$  Svar: —

c)  $\frac{2}{3}$  eller  $\frac{3}{4}$  Svar: —

5 Ahmed cyklar från Bäckby till Rönaby.



a) Hur stor andel har han cyklat när han kommer till Jakobsberg? —

(Välj mellan svaren  $\frac{1}{3}$ ,  $\frac{1}{4}$  och  $\frac{1}{5}$ )

b) Hur stor andel har han kvar att cykla? —

## Andel

**FACIT**

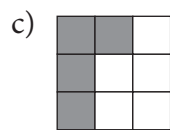
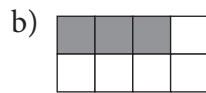
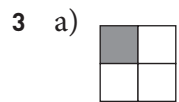
1 a)  $\frac{1}{4}$

b)  $\frac{3}{4}$

2 a) skuggad  $\frac{2}{4}$  ( $\frac{1}{2}$ ),

vit  $\frac{2}{4}$  ( $\frac{1}{2}$ )

b) Skuggad  $\frac{2}{3}$ , vit  $\frac{1}{3}$



4 a)  $\frac{1}{4}$

b)  $\frac{1}{2}$

c)  $\frac{3}{4}$

5 a)  $\frac{1}{3}$

b)  $\frac{2}{3}$